











BTY 7. SINIF ÇALIŞMA SORULARI

1-) Aşağıdaki resimde kuşu domuza ulaştıracak kod bloğu hangisidir ?

RESİM	A	B	C	D
				

2-) Aşağıdaki resimde kuşu domuza ulaştıracak kod bloğu hangisidir ?

RESİM	A	B	C	D
				


3-) Aşağıdaki resimde kuşu domuzza ulaştıracak kod bloğu hangisidir ?

RESİM	A	B	C	D
	<pre>Çalıştığı zaman sola dön 90 ilerle sağa dön 90 ilerle ilerle ilerle ilerle sola dön 90 ilerle</pre>	<pre>Çalıştığı zaman sola dön 90 ilerle sağa dön 90 ilerle ilerle ilerle ilerle sağa dön 90 ilerle</pre>	<pre>Çalıştığı zaman sola dön 90 ilerle sola dön 90 ilerle ilerle ilerle ilerle ilerle ilerle ilerle</pre>	<pre>Çalıştığı zaman sağa dön 90 ilerle sağa dön 90 ilerle ilerle ilerle ilerle ilerle ilerle ilerle</pre>


4-) İpucu : Kırmızı şapka 100 piksel uzunluğundadır. 70 piksel daha kısa olan siyah bir şapka çizerek tamamla. Siyah şapkanın genişliği 50 pikseldir. Buna göre şekli çizmek için kullanılacak kod bloğu hangisidir ?

RESİM	A	B	C	D
	<pre>Çalıştığı zaman kadar sağa dön 90 derece ileriye taşı 30 piksel kadar sola dön 90 derece ileriye taşı 50 piksel kadar sola dön 90 derece ileriye taşı 30 piksel</pre>	<pre>Çalıştığı zaman kadar sola dön 90 derece ileriye taşı 50 piksel kadar sağa dön 90 derece ileriye taşı 50 piksel kadar sağa dön 90 derece ileriye taşı 50 piksel</pre>	<pre>Çalıştığı zaman kadar sola dön 90 derece ileriye taşı 50 piksel kadar sağa dön 90 derece ileriye taşı 50 piksel</pre>	<pre>Çalıştığı zaman kadar sola dön 90 derece ileriye taşı 30 piksel kadar sağa dön 90 derece ileriye taşı 50 piksel kadar sağa dön 90 derece ileriye taşı 30 piksel</pre>


5-) Zombiyi ayçiçeğine ulaştırmak için hangi kod bloğu kullanılmalıdır ?

RESİM	A	B	C	D
	<pre>Çalıştığı zaman Tekrarla 6 kez tekrarla yap sağa dön 90° Tekrarla 2 kez tekrarla yap ilerle</pre>	<pre>Çalıştığı zaman Tekrarla 2 kez tekrarla yap sağa dön 90° Tekrarla 3 kez tekrarla yap ilerle</pre>	<pre>Çalıştığı zaman Tekrarla 3 kez tekrarla yap sağa dön 90° Tekrarla 2 kez tekrarla yap ilerle</pre>	<pre>Çalıştığı zaman Tekrarla 2 kez tekrarla yap sağa dön 90° Tekrarla 6 kez tekrarla yap ilerle</pre>


6-) Zombiyi ayçiçeğine ulaştırmak için hangi kod bloğu kullanılmalıdır ?

RESİM	A	B	C	D
	<pre>Çalıştığı zaman Tekrarla 4 kez tekrarla yap ilerle sağa dön 90° ilerle sola dön 90°</pre>	<pre>Çalıştığı zaman Tekrarla 5 kez tekrarla yap ilerle sağa dön 90° ilerle sola dön 90°</pre>	<pre>Çalıştığı zaman Tekrarla 5 kez tekrarla yap ilerle sola dön 90° ilerle sağa dön 90°</pre>	<pre>Çalıştığı zaman Tekrarla 4 kez tekrarla yap ilerle sola dön 90° ilerle sağa dön 90°</pre>

7-) Aktörümüzün kareyi tamamlaması için hangi kod bloğu kullanılmalıdır ?

RESİM	A	B	C	D
	<p>Çalıştığı zaman</p> <p>Tekrarla 3 kez tekrarla</p> <p>yap ileriye taşı 100 piksel</p> <p>kadar sağa dön 90 derece</p>	<p>Çalıştığı zaman</p> <p>Tekrarla 4 kez tekrarla</p> <p>yap ileriye taşı 100 piksel</p> <p>kadar sağa dön 120 derece</p>	<p>Çalıştığı zaman</p> <p>Tekrarla 4 kez tekrarla</p> <p>yap ileriye taşı 100 piksel</p> <p>kadar sağa dön 90 derece</p>	<p>Çalıştığı zaman</p> <p>Tekrarla 3 kez tekrarla</p> <p>yap ileriye taşı 100 piksel</p> <p>kadar sağa dön 60 derece</p>

8-) Arının tüm nektarları toplayabilmesi için hangi kod bloğu kullanılmalıdır ?

RESİM	A	B	C	D
	<p>Çalıştığı zaman</p> <p>Tekrarla 2 kez tekrarla</p> <p>yap sola dön 180</p> <p>Tekrarla 3 kez tekrarla</p> <p>yap ilerle</p> <p>bal yap</p>	<p>Çalıştığı zaman</p> <p>Tekrarla 3 kez tekrarla</p> <p>yap sola dön 180</p> <p>Tekrarla 2 kez tekrarla</p> <p>yap ilerle</p> <p>bal yap</p>	<p>Çalıştığı zaman</p> <p>Tekrarla 3 kez tekrarla</p> <p>yap sola dön 180</p> <p>Tekrarla 2 kez tekrarla</p> <p>yap ilerle</p> <p>bal yap</p>	<p>Çalıştığı zaman</p> <p>Tekrarla 3 kez tekrarla</p> <p>yap sola dön 180</p> <p>Tekrarla 2 kez tekrarla</p> <p>yap ilerle</p> <p>nektarı al</p>


9-) Arının tüm nektarları toplayabilmesi için hangi kod bloğu kullanılmalıdır ?

RESİM	A	B	C	D
	<p>Çalıştığı zaman</p> <p>Tekrarla 4 kez tekrarla yap</p> <ul style="list-style-type: none">ilerleilerlenektarı alsola dön ⤴	<p>Çalıştığı zaman</p> <p>Tekrarla 4 kez tekrarla yap</p> <ul style="list-style-type: none">ilerleilerlenektarı alsağa dön ⤵	<p>Çalıştığı zaman</p> <p>Tekrarla 3 kez tekrarla yap</p> <ul style="list-style-type: none">ilerleilerlenektarı alsola dön ⤴	<p>Çalıştığı zaman</p> <p>Tekrarla 3 kez tekrarla yap</p> <ul style="list-style-type: none">ilerleilerlenektarı alsağa dön ⤵

10-) Arının nektar ve balları toplayabilmesi için hangi kod bloğu kullanılmalıdır ?

RESİM	A	B	C	D
	<p>Çalıştığı zaman</p> <p>Tekrarla 4 kez tekrarla yap</p> <ul style="list-style-type: none">ilerlenektarı alilerlebal yapsola dön ⤴	<p>Çalıştığı zaman</p> <p>Tekrarla 4 kez tekrarla yap</p> <ul style="list-style-type: none">ilerlebal yapilerlenektarı alsola dön ⤴	<p>Çalıştığı zaman</p> <p>Tekrarla 3 kez tekrarla yap</p> <ul style="list-style-type: none">ilerlebal yapilerlenektarı alsola dön ⤴	<p>Çalıştığı zaman</p> <p>Tekrarla 3 kez tekrarla yap</p> <ul style="list-style-type: none">ilerlenektarı alilerlebal yapsola dön ⤴

11-) Arının sayısı bilinmeyen nektarları toplaması için hangi kod bloğu kullanılmalıdır ?

RESİM	A	B	C	D
	<pre>Çalıştığı zaman ilerle Tekrarla 4 kez tekrarla yap Tekrarla 3 kez tekrarla yap ilerle eğer nektar > 0 yap nektarı al sola dön</pre>	<pre>Çalıştığı zaman ilerle Tekrarla 3 kez tekrarla yap Tekrarla 4 kez tekrarla yap ilerle eğer nektar > 0 yap nektarı al sola dön</pre>	<pre>Çalıştığı zaman ilerle Tekrarla 3 kez tekrarla yap Tekrarla 3 kez tekrarla yap ilerle eğer nektar > 0 yap nektarı al sola dön</pre>	<pre>Çalıştığı zaman ilerle Tekrarla 3 kez tekrarla yap Tekrarla 3 kez tekrarla yap ilerle eğer nektar > 0 yap nektarı al sağa dön</pre>

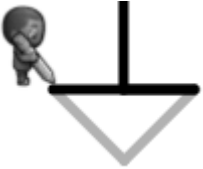
12-) Zombinin ayçiçeğine ulaşmasını hangi kod bloğu sağlar ?

RESİM	A	B	C	D
	<pre>Çalıştığı zaman kadar tekrarla yap sola dön ilerle ilerle</pre>	<pre>Çalıştığı zaman kadar tekrarla yap sağa dön ilerle ilerle</pre>	<pre>Çalıştığı zaman kadar tekrarla yap ilerle ilerle sola dön</pre>	<pre>Çalıştığı zaman kadar tekrarla yap ilerle ilerle sağa dön</pre>


13-) Aktörün tüm çizgileri çizmesini sağlayan kod bloğu hangisidir ?

RESİM	A	B	C	D
	<pre>Çalıştığı zaman Tekrarla 8 kez tekrarla yap renk ayarla rastgele renk ileriyeye taşı 100 piksel geriyeye doğru taşı 100 piksel kadar sola dön 60 derece</pre>	<pre>Çalıştığı zaman Tekrarla 8 kez tekrarla yap renk ayarla rastgele renk ileriyeye taşı 100 piksel geriyeye doğru taşı 100 piksel kadar sağa dön 45 derece</pre>	<pre>Çalıştığı zaman Tekrarla 10 kez tekrarla yap renk ayarla rastgele renk ileriyeye taşı 100 piksel geriyeye doğru taşı 100 piksel kadar sola dön 45 derece</pre>	<pre>Çalıştığı zaman Tekrarla 8 kez tekrarla yap renk ayarla rastgele renk ileriyeye taşı 100 piksel geriyeye doğru taşı 100 piksel kadar sağa dön 60 derece</pre>


14-) Aktörün çizgileri tamamlamasını sağlayan kod bloğu hangisidir ?

RESİM	A	B	C	D
	<pre>Çalıştığı zaman kadar sola dön 45 derece ileriyeye taşı 50 piksel kadar sağa dön 90 derece ileriyeye taşı 50 piksel</pre>	<pre>Çalıştığı zaman Tekrarla 2 kez tekrarla yap kadar sola dön 45 derece ileriyeye taşı 50 piksel</pre>	<pre>Çalıştığı zaman Tekrarla 2 kez tekrarla yap kadar sağa dön 45 derece ileriyeye taşı 50 piksel</pre>	<pre>Çalıştığı zaman kadar sağa dön 45 derece ileriyeye taşı 50 piksel kadar sola dön 90 derece ileriyeye taşı 50 piksel</pre>


15-) Aktörün üçgenleri çizebilmesini sağlayan kod bloğu hangisidir ?

RESİM	A	B	C	D
	<pre>Çalıştığı zaman Tekrarla 5 kez tekrarla yap Tekrarla 3 kez tekrarla yap ileriyeye taşı 100 piksel kadar sağa dön 120 derece kadar sağa dön 120 derece</pre>	<pre>Çalıştığı zaman Tekrarla 3 kez tekrarla yap Tekrarla 3 kez tekrarla yap ileriyeye taşı 100 piksel kadar sağa dön 120 derece kadar sağa dön 120 derece</pre>	<pre>Çalıştığı zaman Tekrarla 4 kez tekrarla yap Tekrarla 3 kez tekrarla yap ileriyeye taşı 100 piksel kadar sağa dön 120 derece kadar sağa dön 120 derece</pre>	<pre>Çalıştığı zaman Tekrarla 6 kez tekrarla yap Tekrarla 3 kez tekrarla yap ileriyeye taşı 100 piksel kadar sağa dön 120 derece kadar sağa dön 120 derece</pre>

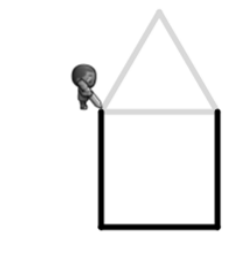
16-) Arının tüm nektarları toplamasını sağlayan kod bloğu hangisidir ?

RESİM	A	B	C	D
	<pre>Çalıştığı zaman Tekrarla 5 kez tekrarla yap ilerle Tekrarla 3 kez tekrarla yap nektarı al</pre>	<pre>Çalıştığı zaman Tekrarla 3 kez tekrarla yap ilerle Tekrarla 3 kez tekrarla yap nektarı al</pre>	<pre>Çalıştığı zaman Tekrarla 3 kez tekrarla yap Tekrarla 3 kez tekrarla yap nektarı al ilerle</pre>	<pre>Çalıştığı zaman Tekrarla 5 kez tekrarla yap Tekrarla 3 kez tekrarla yap nektarı al ilerle</pre>


17-) Arının tüm nektarları toplamasını sağlayan kod bloğu hangisidir ?

RESİM	A	B	C	D
	<pre>Çalıştığı zaman Tekrarla 4 kez tekrarla yap Tekrarla 3 kez tekrarla yap ilerle nektarı al sağa dön 90</pre>	<pre>Çalıştığı zaman Tekrarla 9 kez tekrarla yap Tekrarla 3 kez tekrarla yap ilerle nektarı al sağa dön 90</pre>	<pre>Çalıştığı zaman Tekrarla 3 kez tekrarla yap sola dön 90 Tekrarla 3 kez tekrarla yap ilerle nektarı al sağa dön 90</pre>	<pre>Çalıştığı zaman Tekrarla 3 kez tekrarla yap Tekrarla 3 kez tekrarla yap ilerle nektarı al sağa dön 90</pre>

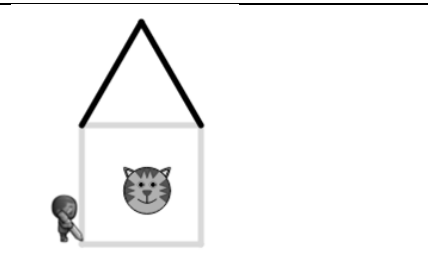
18-) Aşağıdaki seçeneklerin hangisinde karakter kareyi tamamlar?

RESİM	A	B	C	D
	<pre>Çalıştığı zaman ileriye taşı 100 pikseller kadar sola dön 90 dereceler ileriye taşı 100 pikseller kadar sola dön 120 dereceler ileriye taşı 100 pikseller</pre>	<pre>Çalıştığı zaman ileriye taşı 100 pikseller kadar sola dön 45 dereceler ileriye taşı 100 pikseller kadar sola dön 120 dereceler ileriye taşı 100 pikseller</pre>	<pre>Çalıştığı zaman ileriye taşı 100 pikseller kadar sola dön 60 dereceler ileriye taşı 100 pikseller kadar sola dön 120 dereceler ileriye taşı 100 pikseller</pre>	<pre>Çalıştığı zaman ileriye taşı 100 pikseller kadar sola dön 120 dereceler ileriye taşı 100 pikseller kadar sola dön 120 dereceler ileriye taşı 100 pikseller</pre>

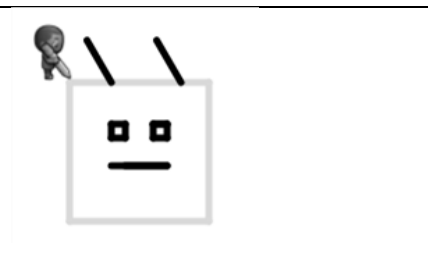
19-) Arının tüm peteklerde bal yapmasını ve tüm çiçeklerden nektarlar toplamasını sağlayan kod bloğu hangisidir?

RESİM	A	B	C	D
	<p>Çalıştığı zaman</p> <p>Tekrarla ???</p> <p>D →</p> <p>değer al</p> <p>D →</p> <p>yap</p>	<p>Çalıştığı zaman</p> <p>Tekrarla 2</p> <p>D →</p> <p>değer al</p> <p>B ←</p> <p>yap</p>	<p>Çalıştığı zaman</p> <p>Tekrarla 2</p> <p>B ←</p> <p>değer al</p> <p>B ←</p> <p>yap</p>	<p>Çalıştığı zaman</p> <p>Tekrarla 2</p> <p>D →</p> <p>değer al</p> <p>D →</p> <p>yap</p>

20-) Aşağıdaki seçeneklerin hangisinde karakter kareyi tamamlar?

RESİM	A	B	C	D
	<p>Çalıştığı zaman</p> <p>ileriye taş 100 pikseller</p> <p>kadar sağa dön 90 dereceler</p> <p>ileriye taş 100 pikseller</p> <p>kadar sağa dön 90 dereceler</p> <p>ileriye taş 100 pikseller</p> <p>kadar sola dön 90 dereceler</p> <p>ileriye taş 100 pikseller</p>	<p>Çalıştığı zaman</p> <p>ileriye taş 100 pikseller</p> <p>kadar sağa dön 90 dereceler</p> <p>ileriye taş 100 pikseller</p> <p>kadar sağa dön 90 dereceler</p> <p>ileriye taş 100 pikseller</p> <p>kadar sağa dön 90 dereceler</p> <p>ileriye taş 100 pikseller</p> <p>kadar sağa dön 90 dereceler</p> <p>ileriye taş 100 pikseller</p>	<p>Çalıştığı zaman</p> <p>ileriye taş 100 pikseller</p> <p>kadar sola dön 90 dereceler</p> <p>ileriye taş 100 pikseller</p> <p>kadar sola dön 90 dereceler</p> <p>ileriye taş 100 pikseller</p> <p>kadar sola dön 90 dereceler</p> <p>ileriye taş 100 pikseller</p>	<p>Çalıştığı zaman</p> <p>ileriye taş 100 pikseller</p> <p>kadar sola dön 45 dereceler</p> <p>ileriye taş 100 pikseller</p> <p>kadar sola dön 45 dereceler</p> <p>ileriye taş 100 pikseller</p> <p>kadar sola dön 45 dereceler</p> <p>ileriye taş 100 pikseller</p>

21-) Aşağıdaki seçeneklerin hangisinde karakter kareyi tamamlar?

RESİM	A	B	C	D
	<p>Çalıştığı zaman</p> <p>Tekrarla 4 kez tekrarlar</p> <p>yap ileriye taş 100 pikseller</p> <p>kadar sağa dön 90 dereceler</p>	<p>Çalıştığı zaman</p> <p>Tekrarla 3 kez tekrarlar</p> <p>yap ileriye taş 100 pikseller</p> <p>kadar sağa dön 90 dereceler</p>	<p>Çalıştığı zaman</p> <p>Tekrarla 2 kez tekrarlar</p> <p>yap ileriye taş 100 pikseller</p> <p>kadar sağa dön 90 dereceler</p>	<p>Çalıştığı zaman</p> <p>Tekrarla 5 kez tekrarlar</p> <p>yap ileriye taş 100 pikseller</p> <p>kadar sağa dön 90 dereceler</p>






22-) Aktörün kareleri çizbilmesini sağlayan kod bloğu hangisidir ? (İpucu: Karelerin kenarları ve aralarındaki uzaklık 20 pikseldir)

RESİM	A	B	C	D
	<pre>Çalıştığı zaman Tekrarla 4 kez tekrarla yap Tekrarla 4 kez tekrarla yap ileriye taşı 20 piksel kadar sola dön 90 derece ileri atla 40 piksel</pre>	<pre>Çalıştığı zaman Tekrarla 8 kez tekrarla yap Tekrarla 4 kez tekrarla yap ileriye taşı 20 piksel kadar sola dön 90 derece ileri atla 40 piksel</pre>	<pre>Çalıştığı zaman Tekrarla 8 kez tekrarla yap Tekrarla 4 kez tekrarla yap ileriye taşı 20 piksel kadar sola dön 90 derece ileri atla 20 piksel</pre>	<pre>Çalıştığı zaman Tekrarla 4 kez tekrarla yap Tekrarla 4 kez tekrarla yap ileriye taşı 20 piksel kadar sola dön 90 derece ileri atla 20 piksel</pre>

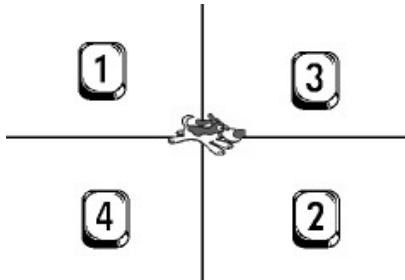
23-) Aşağıdaki kod çalıştırıldığında seçeneklerden hangisi ortaya çıkar?

RESİM	A	B	C	D
<pre>Çalıştığı zaman bu işlemleri 3 kez tekrarla yap ileriye taşı 100 pikseller kadar sağa dön 120 derece</pre>				

24-) Aşağıdaki resimde kuşu domuza ulaştıracak kod bloğu hangisidir?

RESİM	A	B	C	D
				

25-) Aşağıdaki resimde kuşu domuza ulaştıracak kod bloğu hangisidir?

RESİM	(120,50)	(-20,130)	(80,-80)	(-90,-110)
	3	1	2	4

23.Yazılım Nedir?

Çeşitli görevleri gerçekleştirmek amacıyla hazırlanmış programlara yazılım adı verilir.

24.Bir problemi çözmek için gerekli aşamalar nelerdir?

Problemi iyi anlamak - Kısa ve anlaşılır biçimde çözmek - Sonucun doğruluğunu kontrol etmek.

25.Algoritma Nedir?

Açık ve net ifadelerle problemin adım adım çözümünü gösteren bu taslağa “algoritma” adı verilir.

26.Akış Şeması Nedir?

Algoritmayı geometrik şekillerle gösteren şemadır.

27.Akış şemasında Elips şekli ne ifade eder?

Başla ve Bitir adımları için kullanılır.

28.Akış şemasında Paralel Kenar şekli ne ifade eder?

Giriş işlemleri için kullanılır. Dışarıdan bilgi/veri girişini belirtir.

29.Akış şemasında Dikdörtgen ne ifade eder?

Hesaplama ya da Değişkene Değer Atama işlemleri için kullanılır.

30.Akış şemasında Eşkenar Dörtgen şekli ne ifade eder?

Karşılaştırma ya da Karar Verme işlemleri için kullanılır.

31.Akış şemasında Dalgalı Dörtgen şekli ne ifade eder?

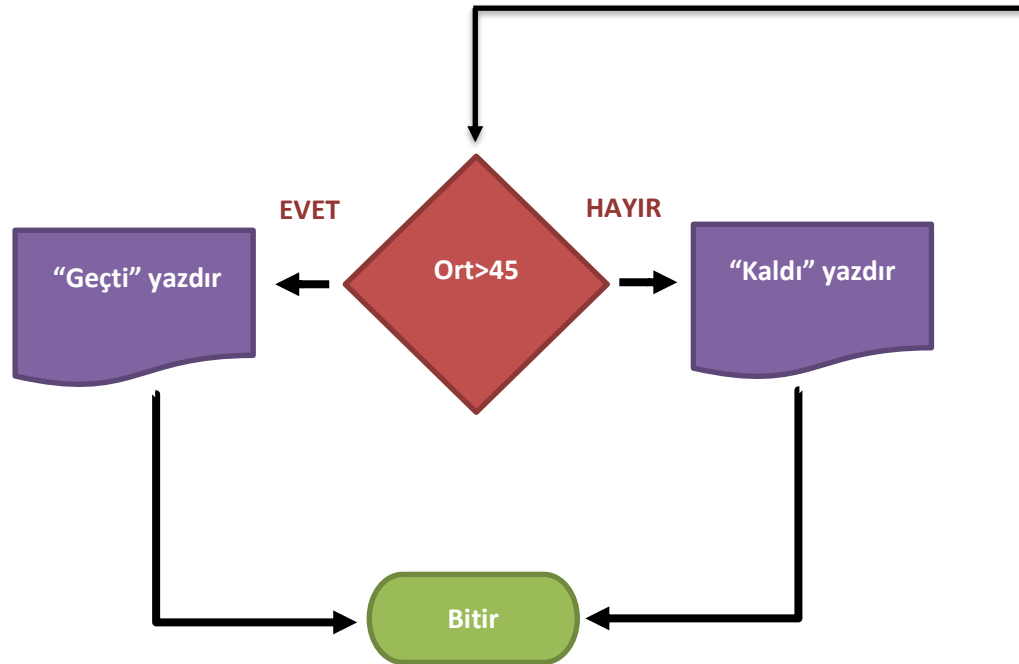
Ekran/ Yazıcı çıktısı için kullanılır.

32.Değişken Nedir?

Programa girilen verileri, bilgileri saklamamızı sağlayan yapılara değişken denir.

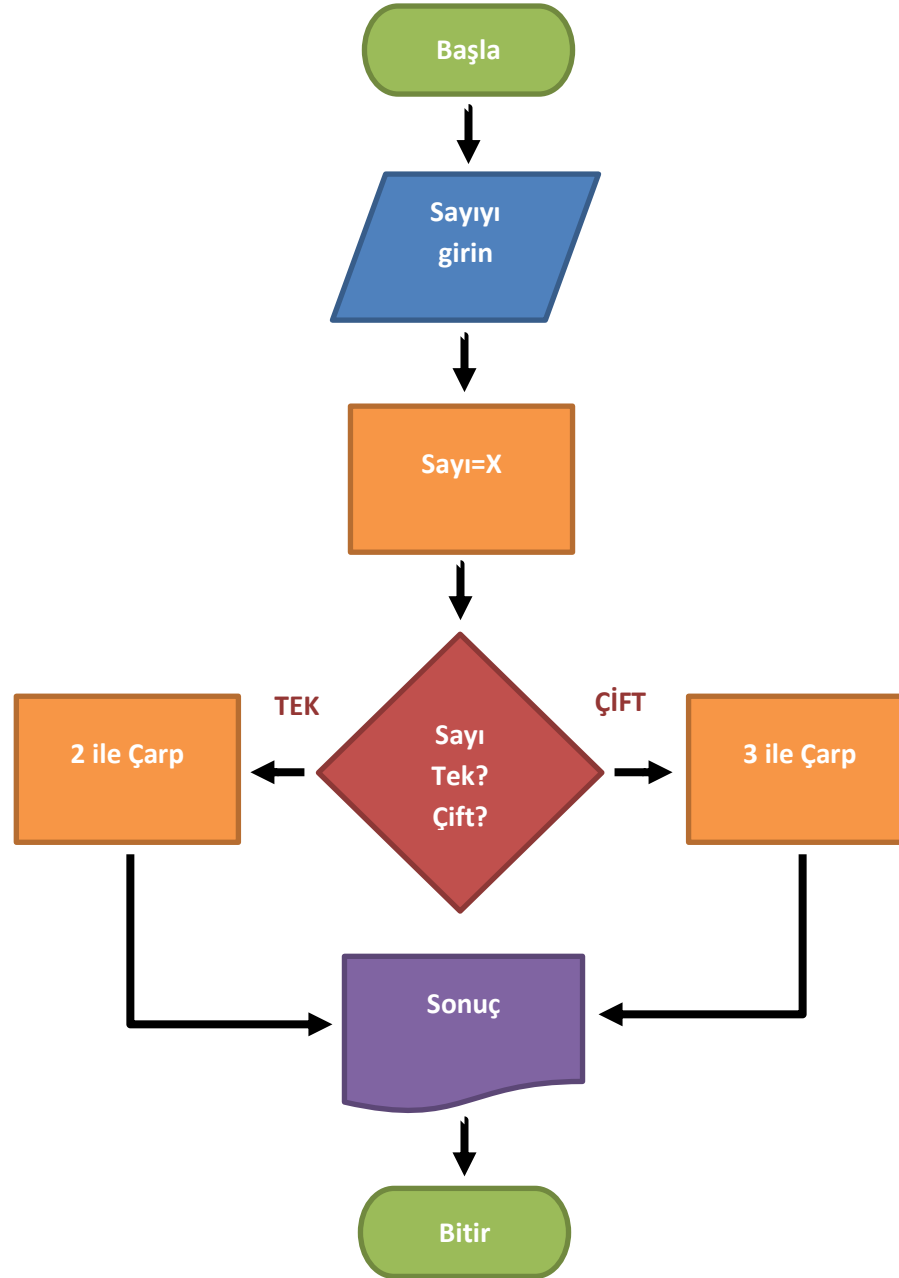
33. Girilen iki notun ortalamasını alarak, ortalama 45'den büyük ise "geçti" değil ise "kaldı" sonucunu veren programın algoritma ve akış şemasını yazın.

1. Başla
2. Birinci notu girin
3. Birinci notu değişkene aktar (a)
4. İkinci notu girin
5. İkinci notu değişkene aktar (b)
6. Ortalamayı hesapla [$c=(a+b)/2$]
7. Ortalama > 45 kontrol et
8. Evet ise Adım 10'a git
9. Hayır ise Adım 11'e git
10. Ekranı "Geçti" yazdır ve Adım 12'ye git
11. Ekranı "Kaldı" yazdır ve Adım 12'ye git
12. Bitir



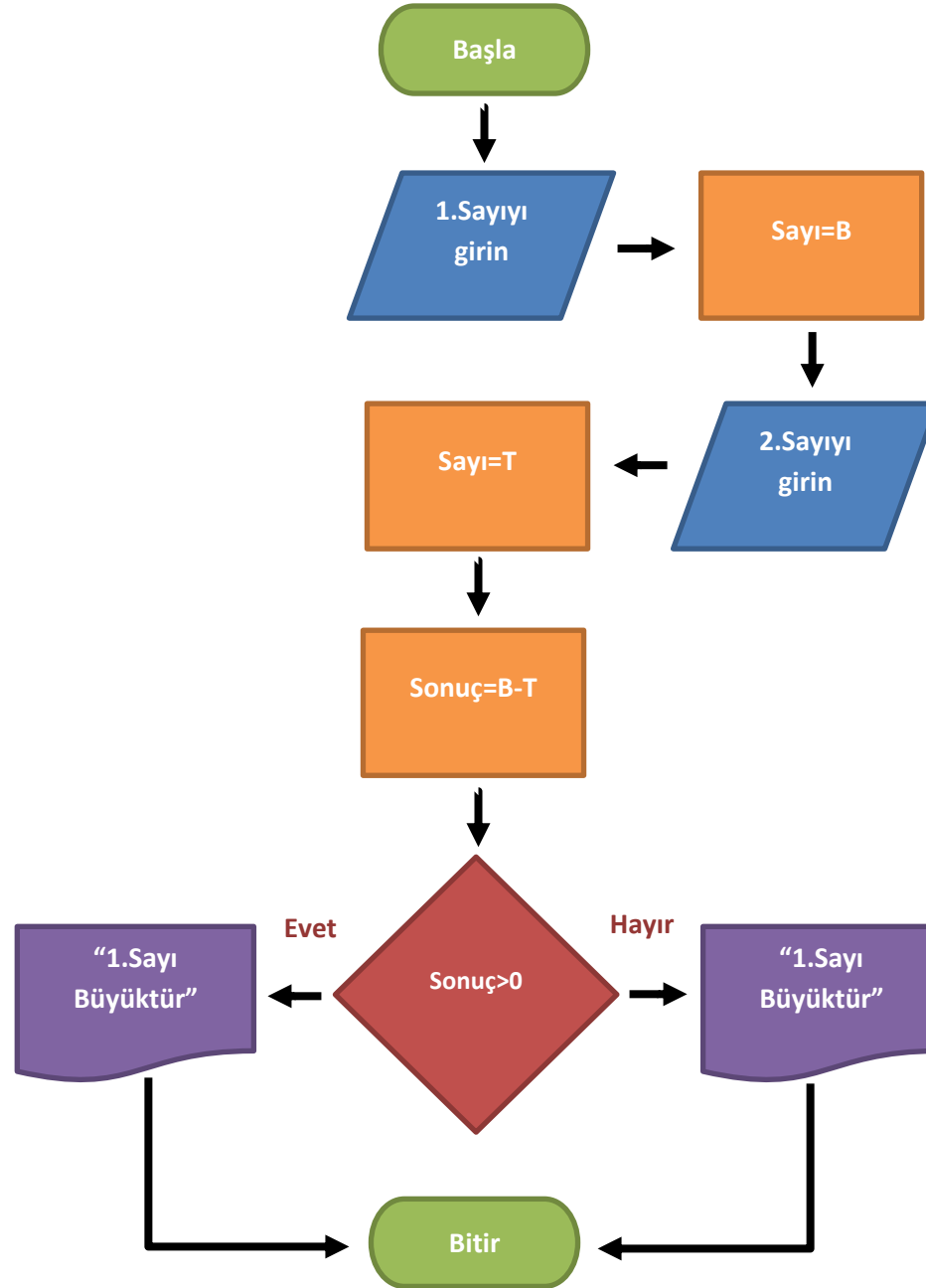
34. Girilen sayı tek ise 2 ile çift ise 3 ile çarpan programın algoritmasını ve akış şemasını yazınız.

1. Başla
2. Sayıyı girin
3. Sayıyı değişkene aktar (x)
4. X tek mi çift mi karar ver
5. Tekse ise Adım 7'ye git
6. Çiftse ise Adım 8'e git
7. X'i 2 ile çarp ve Adım 9'a git
8. X'i 3 ile çarp ve Adım 9'a git
9. Sonucu ekrana yazdır
10. Bitir



35. Girilen iki sayıdan, hangisinin büyük olduğunu söyleyen programın akış şemasını, aşağıda verilen ifadelere ait numaraları şekillerin içlerine doğru şekilde sıralayarak oluşturun.

1. Başla
2. "Birinci sayıyı girin"
3. Sayı1 = B
4. "İkinci sayıyı girin"
5. Sayı2 = T
6. Sonuç = B - T
7. Sonuç > 0
8. "1.Sayı Büyüktür" yazdır
9. "2.Sayı Büyüktür" yazdır
10. Bitiş



36.Scratch ekranında “Sahne” nedir ve boyutları ne kadardır?

Sahne karakterlerimizin hareketleri sergilediği bölümdür. Sahne 480x360 piksel boyutundadır.

37.Scratch ekranında “Kodlama Alanı” nedir?

Sahne karakterlerimizin hareketleri sergilediği bölümdür. Sahne 480x360 piksel boyutundadır.

38.Scratch ekranında “Kodlama Alanı” nedir?

Sahne karakterlerimizin hareketleri sergilediği bölümdür. Sahne 480x360 piksel boyutundadır.



39.Yukarıdaki simgelerin anlamlarını sırayla yazınız.


Çoğalt – Sil – Büyüt – Küçült



40.Yukarıdaki butonlar Scratch’de nasıl kukla eklememizi sağlar, sırayla yazınız.

Kütüphaneden – Çizerek – Dosyadan - Kameradan

41.Scratch’de sahnenin koordinatları nasıl belirlenir?



- 1 10 adım git
- 2 15 derece dön
- 3 15 derece dön
- 4 90 yönüne dön
- 5 'ye doğru dön
- 6 x: 142 y: -37 noktasına git
- 7 fare oku 'na git
- 8 1 sn.de x: 142 y: -37 a süzül
- 9 x'i 10 arttır
- 10 x, 0 olsun
- 11 y'yi 10 arttır
- 12 y, 0 olsun
- 13 kenara geldiysen sek
- 14 kuklanın şekli sağa-sola dönebilsin
- 15 x konumu
- 16 y konumu
- 17 yönü

42. Scratch'de Hareket Kod Blokları ve Görevleri Nelerdir?

- 1- Karakteri öne ya da arkaya doğru hareket ettirir.
- 2- Karakterin istenilen derece kadar saat yönünde dönmesini sağlar.
- 3- Karakterin istenilen derece kadar saat yönü tersine dönmesini sağlar.
- 4- Karakterin hangi yöne döneceğini belirler. (0=yukarı, 90=sağ,180=aşağı, -90=sol)
- 5- Karakteri 'mause işaretçisi' veya başka karakterler varsa istenilen 'karakter' e doğru döndürülür.
- 6- Karakteri istenilen x ve y konumuna getirir.
- 7- Karakter 'mause işaretçisi' veya başka karakterler varsa istenilen 'karakter' ile aynı konuma gönderilir.
- 8- Karakter belli bir süre içerisinde belirlenen x ve y konumuna hareket eder.
- 9- Karakterin bulunduğu konumun x değeri istenilen değer kadar arttırılır veya azaltılır.
- 10- Karakterin x konumunu istenilen değere çeker.
- 11- Karakterin bulunduğu konumun y değeri istenilen değer kadar arttırılır veya azaltılır.
- 12- Karakterin y konumunu istenilen değere çeker.
- 13- Karakter ekranın kenarına değdiği an karakteri ters yöne döndürür.
- 14- Karakterin sağa-sola dönme, etrafında dönebilme ve hiç dönememe ayarlarını yapar
- 15- Karakterin x pozisyonu bilgisini verir. Bu seçenek işaretlendiğinde x değerini ekranda görebiliriz.
- 16- Karakterin y pozisyonu bilgisini verir. Bu seçenek işaretlendiğinde y değerini ekranda görebiliriz.
- 17- Karakterin yön bilgisini verir. Bu seçenek işaretlendiğinde yön bilgisini ekranda görebiliriz.

- 1 Hello! de 2 saniye
- 2 Hello! de
- 3 Hmm... diye düşün 2 saniye
- 4 Hmm... diye düşün
- 5 görün
- 6 gizle
- 7 costume2 kılığına geç
- 8 sonraki lolik
- 9 backdrop1 dekoruna geç
- 10 renk etkisini 25 arttır
- 11 renk etkisini 0 yap
- 12 görsel etkileri temizle
- 13 10 birim büyüt
- 14 büyüklüğü % 100 yap
- 15 üste çık
- 16 1 katman alta in
- 17 lolik #
- 18 dekorun adı
- 19 büyüklük

43. Scratch'de Görünüm Kod Blokları ve Görevleri Nelerdir?

- 1- Karakteri öne ya da arkaya doğru hareket ettirir.
- 2- Karakterin istenilen derece kadar saat yönünde dönmesini sağlar.
- 3- Karakterin istenilen derece kadar saat yönü tersine dönmesini sağlar.
- 4- Karakterin hangi yöne döneceğini belirler. (0=yukarı, 90=sağ,180=aşağı, -90=sol)
- 5- Karakteri 'mause işaretçisi' veya başka karakterler varsa istenilen 'karakter' e doğru döndürülür.
- 6- Karakteri istenilen x ve y konumuna getirir.
- 7- Karakter 'mause işaretçisi' veya başka karakterler varsa istenilen 'karakter' ile aynı konuma gönderilir.
- 8- Karakter belli bir süre içerisinde belirlenen x ve y konumuna hareket eder.
- 9- Karakterin bulunduğu konumun x değeri istenilen değer kadar arttırılır veya azaltılır.
- 10- Karakterin x konumunu istenilen değere çeker.
- 11- Karakterin bulunduğu konumun y değeri istenilen değer kadar arttırılır veya azaltılır.
- 12- Karakterin y konumunu istenilen değere çeker.
- 13- Karakter ekranın kenarına değdiği an karakteri ters yöne döndürür.
- 14- Karakterin sağa-sola dönme, etrafında dönebilme ve hiç dönmemeye ayarlarını yapar
- 15- Karakterin x pozisyonu bilgisini verir. Bu seçenek işaretlendiğinde x değerini ekranda görebiliriz.
- 16- Karakterin y pozisyonu bilgisini verir. Bu seçenek işaretlendiğinde y değerini ekranda görebiliriz.
- 17- Karakterin yön bilgisini verir. Bu seçenek işaretlendiğinde yön bilgisini ekranda görebiliriz.

- 1 temizle
- 2 iz bırak
- 3 kalemi bastır
- 4 kalemi kaldır
- 5 kalem rengini  yap
- 6 kalem rengini 10 arttır
- 7 kalem rengini 0 yap
- 8 kalem tonunu 10 arttır
- 9 kalem tonunu 50 yap
- 10 kalem kalınlığını 1 arttır
- 11 kalem kalınlığını 1 yap

44. Scratch'de Kalem Kod Blokları ve Görevleri Nelerdir?

- 1- Ekranı kalem ile çizilenlerin hepsini siler.
- 2- Karakterin o anki konumunda ekrana kendi imajını (görüntüsünü) yapııştırır.
- 3- Karakterin hareket ettiği doğrultuda kalem ile ekranı çizer.
- 4- Karakterin hareket ettiği yerler çizilmez.
- 5- Kalem rengi istenilen renk değerine geçer.
- 6- Kalem rengi bu blok çalıştığında istenilen değer kadar değişir.
- 7- Kalem renginin istenilen değer olması sağlanır.
- 8- Kalem tonu istenilen değer kadar değiştirilir. (kalem tonu 0' dan 100' e doğru açılır, 100' den 200'e doğru koyulaşır.)
- 9- Kalem tonu istenen değer olur.
- 10- Kalem kalınlığı istenen değer kadar değişir.
- 11- Kalem kalınlığı istenen değer olur.

- 1  tıklanınca
- 2 boşluk tuşu basılınca
- 3 bu kolda tıklanınca
- 4 dekor backdrop1 olunca
- 5 ses şiddeti > 10 olunca
- 6 message1 haberi gelince
- 7 message1 haberini sal
- 8 message1 haberini sal ve bekle

45. Scratch'de Olaylar Kod Blokları ve Görevleri Nelerdir?

- 1- Proje içerisinde yeşil bayrağa tıkladığında bu blok altında sıralanmış kod kümesini çalıştırır.
- 2- Seçilmiş olan tuşa (burada boşluk tuşu seçilmiş) basıldığında bu blok altında sıralanmış kod kümesini çalıştırır.
- 3- Karaktere tıkladığında bu blok altında sıralanmış kod kümesini çalıştırır.
- 4- Sahne dekoru burada seçilen dekor olunca bu blok altında sıralanmış kod kümesini çalıştırır.
- 5- Ses şiddeti belirtilen rakamdan yüksek olunca bu blok altında sıralanmış kod kümesini çalıştırır.
- 6- Yapılan duyurunun ardından bu blok altındaki kod kümesi çalışır.
- 7- Bu blok ile yeni haber yazarak komut kümelerini çalıştırmak için yeni bir blok oluşturmuş oluruz. Bu blok çalıştığında yapılan duyurunun ardından bloktaki diğer komutlar çalışmaya devam ederken bu duyuruya ait kod kümesi de çalışmaya başlar.
- 8- Yapılan duyurunun ardından bu bloğun altında kod kümesi var ise bu duyuruya ait kod kümesinin çalışmadan bekler, bitiminden sonra kendi çalışmasına devam eder.

1 1 saniye bekle

2 10 defa tekrarla

3 sürekli tekrarla

4 eğer ise

5 eğer ise değilse

6 olana kadar bekle

7 olana kadar tekrarla

8 hepsini durdur

9 ikiz olarak başladığımda

10 kendim in ikizini yarat

11 bu ikizi sil

46. Scratch'de Kontrol Kod Blokları ve Görevleri Nelerdir?

- 1- Projeyi istenilen süre kadar bekletir, süre tamamlanınca sıradaki bloktan çalışmaya devam eder.
- 2- Bu blok içerisinde bulunan bloklar sırasıyla istenilen değer kadar tekrar tekrar çalıştırılır.
- 3- Bu blok içerisinde bulunan bloklar sırasıyla program durdurulana kadar tekrar tekrar çalıştırılır (sonsuz döngü).
- 4- Eğer' den sonra gelen koşul doğru ise program bu blok içerisine girer ve bu blokları çalıştırır, ardından bu blok içerisinden çıkarak sonraki bloktan çalışmaya devam eder.
- 5- Eğer koşul doğru ise hemen altında yer alan kod blokları icra edilir ve bu kod bloğundan çıkılarak programicraya devam eder. Eğer koşul yanlış ise 'öyle değil ise' kısmında yer alan bloklar icra edilir, icradan sonra bu bloktan çıkılarak program akışı kaldığı yerden devam eder.
- 6- Koşul doğru olana kadar beklenir, koşul doğru olunca aşağıdaki bloklar çalışmaya başlar.
- 7- Koşul doğru olunca blok içerisine girilerek kodlar icra edilir. Koşulun her döngüde doğru olması halinde icra devam eder. Koşul doğrulanmadığı halde altındaki kodlar çalıştırılır.
- 8- 'Hepsini', 'bu diziyi', ' kuklanın kendi dizilerini' seçenekleri ile istenen kod dizilerini (bloklarının) çalışması durdurulur.
- 9- Bir kuklanın ikizi program akışı esnasında komutla oluşturulduğunda bu blok altındaki komutlar çalışır
- 10- Program akışı esnasında kendinin yada seçilecek başka bir kuklanın ikizi oluşturulur.
- 11- Oluşturulan kukla ikizin silinmesini sağlar.

- 1 a değdi (m?)
- 2 rengine değdi (m?)
- 3 rengi rengine değdi (m?)
- 4 a mesafe
- 5 Adınız? diye sor ve belde
- 6 yanıt
- 7 boşluk tuşu basılı (m?)
- 8 fareye basılı (m?)
- 9 farenin x'i
- 10 farenin y'si
- 11 ses şiddeti
- 12 video hareket , bu kukla üzerinde
- 13 videoyu aç
- 14 video saydamlığını % 50 yap
- 15 süre ölçer
- 16 süre ölçeri sıfırla
- 17 x konumu of Sprite1
- 18 şimdiki dakika
- 19 2000'den beri geçen gün
- 20 kullanıcı adı

47. Scratch'de Algılama Kod Blokları ve Görevleri Nelerdir?

- 1- Karakterimizin karaktere / Mause işaretçisine/ kenara değip değmediği kontrolünü yapar. (seçim için açılır menüye tıklayın.)
- 2- Karakterin seçilen renge değip değmediği kontrolünü yapar. (Rengi değiştirmek için renk üzerine tıklayıp ekrandan renk seçin.)
- 3- Karakterin üzerindeki seçtiğiniz rengin seçtiğiniz bir başka renge değip değmediği kontrolünü yapar.
- 4- Karakterin açılır menüden seçtiğimiz başka bir karakter ya da mause işaretçisiyle arasında olan mesafe bilgisini verir.
- 5- Diye Sor ve bekle komutu ardından verdiği yanıt bu 'yanıt' bloğunda tutulur.
- 6- Blok yanındaki kutuya tıkladığında vermiş olduğun yanıt proje ekranında görünür.
- 7- Seçili olan tuşa basılı olma durumunu kontrol eder.
- 8- 'Fare basılı' mı kontrolü yapar.
- 9- Farenin x koordinatını verir.
- 10- Farenin y koordinatını verir.
- 11- Ses yüksekliği bilgisini barındırır.
- 12- Web kamerasındaki görüntünün hareket oranını ve yönünü tespit eder.
- 13- Web kamerasının görüntüsünü alarak sahnede görünmesini sağlar.
- 14- Web kamerasın görüntüsünü istenilen oranda saydamlaştırır.
- 15- Saniye cinsinden geçen süre bilgisini tutar.
- 16- Süre ölçeri sıfırlar
- 17- Seçili olan karakterin/sahnenin seçenekler dahilindeki (x koordinatı/ y koordinatı/ yön/ şu anda görünen kostüm/ ebat/ ses seviyesi) bilgisini kullanabilmemizi sağlar
- 18- Bilgisayarın tarih ve saatine göre yapılan seçim doğrultusunda şimdiki yıl, ay, gün, haftanın kaçınıcı günü olduğu(Pazardan başlayarak), saat, dakika ve saniye bilgilerini verir.
- 19- 01.01.2000 tarih ve 00:00 saatten şu anki tarih ve saate kadar geçen gün sayısını verir.
- 20- Scratch kullanıcı adınızı içerir. Çalışması için siteye kullanıcı adınız ve şifrenizle giriş yapmış olmanız gerekir.

- 1
- 2
- 3
- 4
- 5
- 6
- 7
- 8
- 9
- 10
- 11
- 12
- 13
- 14
- 15
- 16
- 17

48. Scratch'de İşlemler Kod Blokları ve Görevleri Nelerdir?

- 1- Boş kutulara yazılan iki değeri toplar.
- 2- İlk kutudaki değerden ikinci kutudaki değeri çıkarır.
- 3- İki değeri çarpar.
- 4- İlk kutudaki değeri ikinci kutudaki değere böler.
- 5- Belirtilen iki değer arasında rastgele bir sayı üretir.
- 6- İlk kutudaki değer in ikinci kutudaki değerden küçük durumu kontrolü yapılır.
- 7- İki değer in bir biri ile eşitliği durumu kontrolü yapılır.
- 8- İlk kutudaki değer in ikinci kutudaki değerden büyük durumu kontrolü yapılır.
- 9- Belirtilen iki koşulunda doğruluk kontrolünü yapar.
- 10- Belirtilen iki koşuld an en az birinin doğru olması durumunu arar.
- 11- Koşulda verilen durumun olmaması istendiği durumlarda bu blok kullanılır.
- 12- İstenilen iki değeri metin olarak birleştirilir.
- 13- İstenilen değerin hangi sırasındaki harfi isteniyor ise bu blok ile bu bilgi elde edilir.
- 14- Değer in uzunluk bilgisini bu blok ile elde edilir.
- 15- Bu blok ilk kutuya yazılan değer in ikinci kutuya yazılan değere göre modunu bulurken elde edilen kalanı verir.
- 16- İstenilen değerin en yakın tam sayıya yuvarlanmasını sağlar.
- 17- Matematiksel terimleri bulabileceğimiz (mutlak değer, karekök, sin, cos, tan, asin, acos, atan, ln, log, e^, 10^) bu blok ile kutuya yazılan değer in karşılığını bilebilir ve bu değeri sayısal işlemlerde kullanabiliriz.

- 1 Bir Değişken Oluştur
- 2 Puan
- 3 Puan , 0 olsun
- 4 Puan 'i 1 arttır
- 5 Puan değişkenini göster
- 6 Puan değişkenini gizle
- 7 Bir Liste Oluştur
- 8 Sınıf
- 9 Ahmet i Sınıf e ekle
- 10 sil 1 ini Sınıf in
- 11 1 sırasındaki Sınıf 'in
- 12 Sınıf in uzunluğu
- 13 Sınıf listesini göster
- 14 Sınıf listesini gizle
- 15 Sınıf listesinde thing var (mı?)
- 16 koy Ahmet 'yi, 1 sırasına Sınıf 'nin
- 17 değiştir 1 sırasındakini Sınıf listesinin Ahmet ile

49. Scratch'de Veri Kod Blokları ve Görevleri Nelerdir?

- 1- Bu komut ile yeni bir değişken oluştururuz.
- 2- Oluşturulan 'Puan' isimli değişken verisi. (Kutu işaretlendiğinde ekranda değişken değerinin ne olduğu görünür.)
- 3- Var olan değişkenlerden istenilen seçilerek istenilen değer yapılır.
- 4- Var olan değişkenlerden istenilen seçilerek istenilen değer kadar artırılabilir ya da azaltılabilir.
- 5- Var olan değişkenlerden istenilen değişkeni ekranda gösterir.
- 6- Var olan değişkenlerden istenilen değişkeni ekranda gizler.
- 7- Bu komut ile yeni bir liste oluştururuz.
- 8- Sınıf adlı liste bilgisini barındırır. Kutu işaretlendiğinde liste içeriği ekranda görünür.
- 9- İstenilen değeri seçili olan listeye ekler.
- 10- Listenin istenen sırasındaki kaydı, son sırasındaki kaydı ya da tüm kayıtları siler.
- 11- İstene listenin ilk/son veya herhangi bir sıradaki kayıt bilgisini barındırır.
- 12- İstene listenin toplam kayıt sayısını verir.
- 13- İstene listeyi ekranda gösterir.
- 14- İstene listeyi ekranda gizler.
- 15- İstenilen değer seçilen listede olup olmadığını kontrol eder.
- 16- İstene listenin ilk/son veya herhangi bir sırasına yeni bir nesne eklenir. (Eski bilgi silinmez, bu bilgi bir sonraki eleman olarak kaydırılır.)
- 17- İstene listenin ilk/son veya herhangi bir sırasındaki elemanı yerine yeni nesnemiz eklenir.

